

**Zentrale schriftliche Abiturprüfung****2012****Mathematik****Leistungskurs****Aufgabenvorschlag**

Hilfsmittel:

Nachschlagewerk zur Rechtschreibung der deutschen Sprache

Formelsammlung, die an der Schule eingeführt ist bzw. für Berlin von der zuständigen Senatsverwaltung für die Verwendung im Abitur zugelassen ist.

Taschenrechner, die nicht programmierbar und nicht grafikfähig sind und nicht über Möglichkeiten der numerischen Differenziation oder Integration oder dem automatisierten Lösen von Gleichungen verfügen.

Gesamtbearbeitungszeit:

270 Minuten inkl. Lese- und Auswahlzeit

Aufgabenstellung 1**Thema/Inhalt:**

Analysis

Hinweis:

Wählen Sie eine der beiden Aufgaben 1.1 oder 1.2 zur Bearbeitung aus.

Aufgabenstellung 2**Thema/Inhalt:**

Analytische Geometrie

Hinweis:

Wählen Sie eine der beiden Aufgaben 2.1 oder 2.2 zur Bearbeitung aus.

Aufgabenstellung 3**Thema/Inhalt:**

Stochastik

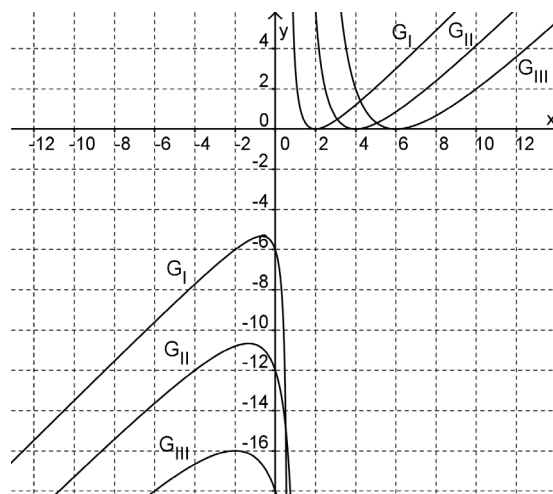
Hinweis:

Wählen Sie eine der beiden Aufgaben 3.1 oder 3.2 zur Bearbeitung aus.

Aufgabe 1.1: Eisenbahntrasse

Im nebenstehenden Bild sind drei Graphen der Funktionenschar f_a mit

$$f_a(x) = \frac{(x - 3a)^2}{x - a}, \quad a \in \mathbb{R}, \quad a > 0 \text{ gegeben.}$$



- a) Geben Sie den Definitionsbereich der Funktionen f_a an.
 Begründen Sie, dass $x = a$ eine Polstelle ist.
 Bestimmen Sie eine Gleichung für die schräge Asymptote.

- b) Ermitteln Sie die Koordinaten und Art der lokalen Extrempunkte der Graphen von f_a .

Ohne Nachweis dürfen Sie verwenden: $f'_a(x) = \frac{x^2 - 2ax - 3a^2}{(x - a)^2}$.

[Kontrollergebnisse: $H_a(-a | -8a), T_a(3a | 0)$]

Begründen Sie, dass keiner der Graphen einen Wendepunkt besitzt.
 Bestimmen Sie eine Gleichung der Geraden, auf der die lokalen Hochpunkte der Graphen von f_a liegen.

- c) Geben Sie an, für welche Werte des Parameters a die Graphen gezeichnet worden sind und begründen Sie Ihre Entscheidung.
 d) Zeichnen Sie für $a = 1$ alle Asymptoten und den Graphen der Funktion f_1 mindestens für das Intervall $[-6; 8]$.

- e) Zeigen Sie, dass die Funktionsgleichung von f_1 in der Form $f_1(x) = x - 5 + \frac{4}{x - 1}$ geschrieben werden kann.

Der Graph von f_1 , die Gerade mit der Gleichung $y = x - 5$ sowie die Senkrechte $x = 3$ schließen eine Fläche ein, die ins Unendliche reicht.
 Prüfen Sie, ob dieser Fläche ein endlicher Flächeninhalt zugeordnet werden kann.

- f) Die beiden Graphenteile von f_1 sind Bestandteile eines Eisenbahnnetzes. Zwischen den beiden Extrempunkten des Graphen soll eine neue Gleisverbindung gebaut werden. Der Übergang an den beiden Punkten soll jeweils „ohne Knick“ erfolgen, das heißt, in diesen beiden Punkten muss es jeweils einen gleichen Anstieg geben. Modellieren Sie die neue Gleisverbindung durch eine ganzrationale Funktion von möglichst geringem Grad.

Verteilung der Bewertungseinheiten (BE) auf die Aufgabenteile							
Aufgabenteil	a)	b)	c)	d)	e)	f)	Summe
BE	7	13	3	6	6	5	40

Aufgabe 1.2: Anhänger einer Halskette

Gegeben ist die Funktionenschar f_a mit $f_a(x) = (a - x) \cdot e^{\frac{x}{a}}$; $x \in \mathbb{R}$; $a \in \mathbb{R}$, $a \neq 0$.
Ihre Graphen heißen G_a .

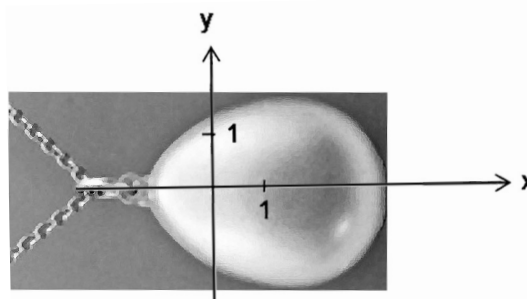
- a) Bestimmen Sie das Verhalten der Funktionswerte von f_a für $x \rightarrow \pm\infty$ in Abhängigkeit von a . Berechnen Sie die Länge der Strecke in Abhängigkeit von a , die durch die jeweiligen beiden Achsenschnittpunkte von G_a festgelegt ist.
- b) Zeigen Sie, dass für jeden Graphen G_a der lokale Extrempunkt auf der y -Achse liegt und bestimmen Sie in Abhängigkeit von a dessen Art.

[Kontrollergebnis: $f_a''(x) = -e^{\frac{x}{a}} \cdot \left(\frac{a+x}{a^2}\right)$]

Stellen Sie G_2 mindestens im Intervall $[-7; 3]$ in einem Koordinatensystem graphisch dar.

- c) Ein Graph der Schar G_a hat an der Stelle $x = 1$ den Anstieg $m = -e$. Ermitteln Sie den zugehörigen Parameterwert a durch inhaltliche Überlegung. Bestimmen Sie die Größe des Winkels, den die Tangente an diesen Graphen an der Stelle $x = 1$ mit der positiven Richtung der x -Achse einschließt.
- d) Ermitteln Sie eine Gleichung der Kurve, auf der alle Wendepunkte von G_a liegen. Bestimmen Sie die Gleichung der Wendetangente an den Graphen der Funktion f_2 . Hinweis: Auf den Nachweis der Existenz der Wendepunkte mithilfe einer hinreichenden Bedingung wird verzichtet.

- e) Jeweils ein Graph G_a für $a > 0$ und der zugehörige an der x -Achse gespiegelte Graph sowie die Gerade $x = k$ sollen die Form eines Kettenanhängers begrenzen. Um den Materialbedarf zu ermitteln, wird der Inhalt der Querschnittsfläche benötigt. Bestimmen Sie für alle $k < 0$ den Inhalt der Querschnittsfläche des Kettenanhängers.



Verteilung der Bewertungseinheiten (BE) auf die Aufgabenteile						
Aufgabenteil	a)	b)	c)	d)	e)	Summe
BE	8	12	6	9	5	40

Aufgabe 2.1: Raubvogel

Ein Raubvogel gleitet geradlinig gleichförmig in der Morgensonne über den Frühnebel. Er befindet sich in einer Höhe von 830 m im Punkt $P_0(3260 \mid -1860 \mid 830)$ und eine Sekunde später in $P_1(3248 \mid -1848 \mid 829)$. Im selben Zeitraum fliegt ein Singvogel geradlinig gleichförmig im morgendlichen Frühnebel von $Q_0(800 \mid -600 \mid 200)$ nach $Q_1(796 \mid -592 \mid 201)$, $1\text{ LE} = 1\text{ m}$.

- a) Geben Sie für die Flugbahnen der Vögel je eine Geradengleichung an. Bestätigen Sie, dass die Vögel mit den Geschwindigkeiten von $61,2 \frac{\text{km}}{\text{h}}$ bzw. $32,4 \frac{\text{km}}{\text{h}}$ fliegen.

Zeigen Sie, dass die Fluggeraden windschief zueinander verlaufen, indem Sie die lineare Unabhängigkeit der Richtungsvektoren nachweisen und den Abstand der beiden Geraden berechnen.

- b) Die obere Grenze des Frühnebels verläuft in einer Ebene E . Die Ebene E ist

orthogonal zu $\vec{n}_E = \begin{pmatrix} 1 \\ -1 \\ 10 \end{pmatrix}$ und verläuft durch den Punkt $A(0 \mid 0 \mid 280)$.

Berechnen Sie, in welchem Punkt, nach welcher Zeit und unter welchem Winkel der Singvogel den Frühnebel verlässt, wenn sein Flug ungestört verläuft.

[Kontrollergebnis: Der Singvogel würde den Nebel in $S(-400 \mid 1800 \mid 500)$ verlassen.]

- c) Berechnen Sie den Abstand des Raubvogels vom Singvogel in dem Moment, in dem der Singvogel den Frühnebel verlassen möchte. Der Raubvogel erspät den Singvogel beim Erscheinen in der Ebene E und schlägt sofort einen Haken in Richtung auf den Singvogel. Berechnen Sie die Größe des Winkels, den die ursprüngliche und die neue Flugstrecke des Raubvogels einschließen.
- d) In diesem Moment flieht der Singvogel (vom Punkt S aus) zurück in den Frühnebel auf derselben Geraden, auf der sich der Raubvogel nähert. Berechnen Sie die im Frühnebel mindestens erforderliche Sichtweite, damit der Raubvogel den Singvogel nicht aus den Augen verliert, wenn jetzt Singvogel und Raubvogel jeweils dreimal so schnell fliegen wie zuvor. Hinweis: Es wird darauf verwiesen, dass es sich bei diesem Modell um einen nicht realistischen Beschleunigungsvorgang handelt, weil ein realer Vogel die dreifache Geschwindigkeit nicht in Nullzeit erreicht.

Verteilung der Bewertungseinheiten (BE) auf die Aufgabenteile					
Aufgabenteil	a)	b)	c)	d)	Summe
BE	12	8	6	4	30

Aufgabe 2.2: Turm

Ein Turm, der auf ebenem Gelände steht, hat die Form eines Quaders mit quadratischer Grundfläche. Ihm ist als Dach eine gerade quadratische Pyramide aufgesetzt.

Die Eckpunkte der Grundfläche des Turmes sind mit $A(0 | 0 | 0)$, $B(6 | 0 | 0)$, $C(6 | 6 | 0)$ und $D(0 | 6 | 0)$ gegeben (1 LE = 1 m).

- a) Die Turmspitze S befindet sich in 16 m Höhe über der Grundfläche. Der Eckpunkt E des

Dachbodens liegt auf der Geraden $g : \vec{x} = \begin{pmatrix} 6 \\ 9 \\ 16 \end{pmatrix} + s \begin{pmatrix} 3 \\ 4,5 \\ 3 \end{pmatrix}; s \in \mathbb{R}$ genau über dem Punkt A .

Bestimmen Sie die Koordinaten von S und E . Geben Sie die Koordinaten der Eckpunkte F , G und H des Dachbodens an, wobei F über B , G über C und H über D liegt. Zeichnen Sie den Turm in das vorgegebene Koordinatensystem ein (Anlage).
[Kontrollergebnis: $E(0 | 0 | 10)$]

- b) Stellen Sie eine Gleichung der Ebene E^* , in der die Dachfläche GHS liegt, in Koordinatenform auf.

Die Gerade g durchstößt die Ebene E^* im Punkt P .

Bestimmen Sie die Koordinaten von P .

[Kontrollergebnis: $P(3 | 4,5 | 13)$]

An der Dachfläche GHS befindet sich außen eine Hebevorrichtung.

Dazu wurde ein Balken im Punkt P senkrecht durch die Dachfläche GHS

hindurchgeführt, der $2\sqrt{5}$ m aus der Dachfläche herausragt. An der Spitze des Balkens ist außen eine Rolle befestigt, über die ein Seil läuft.

Berechnen Sie den Abstand, den das heruntergelassene Seil von der Turmwand $CDHG$ hat.

Hinweis: Die Ausmaße der Rolle werden vernachlässigt.

- c) Der Balken, an dessen Spitze sich die $2\sqrt{5}$ m lange Hebevorrichtung befindet, geht durch das Dach hindurch und wird an einen Träger angeschraubt, der an der Dachfläche EFS befestigt ist.
Berechnen Sie die Größe des Winkels, den diese Dachfläche mit dem Balken einschließt.

- d) An der Seite $BCGF$ des Turmes befindet sich eine Zugbrücke. Sie ist drehbar um die Kante BC .

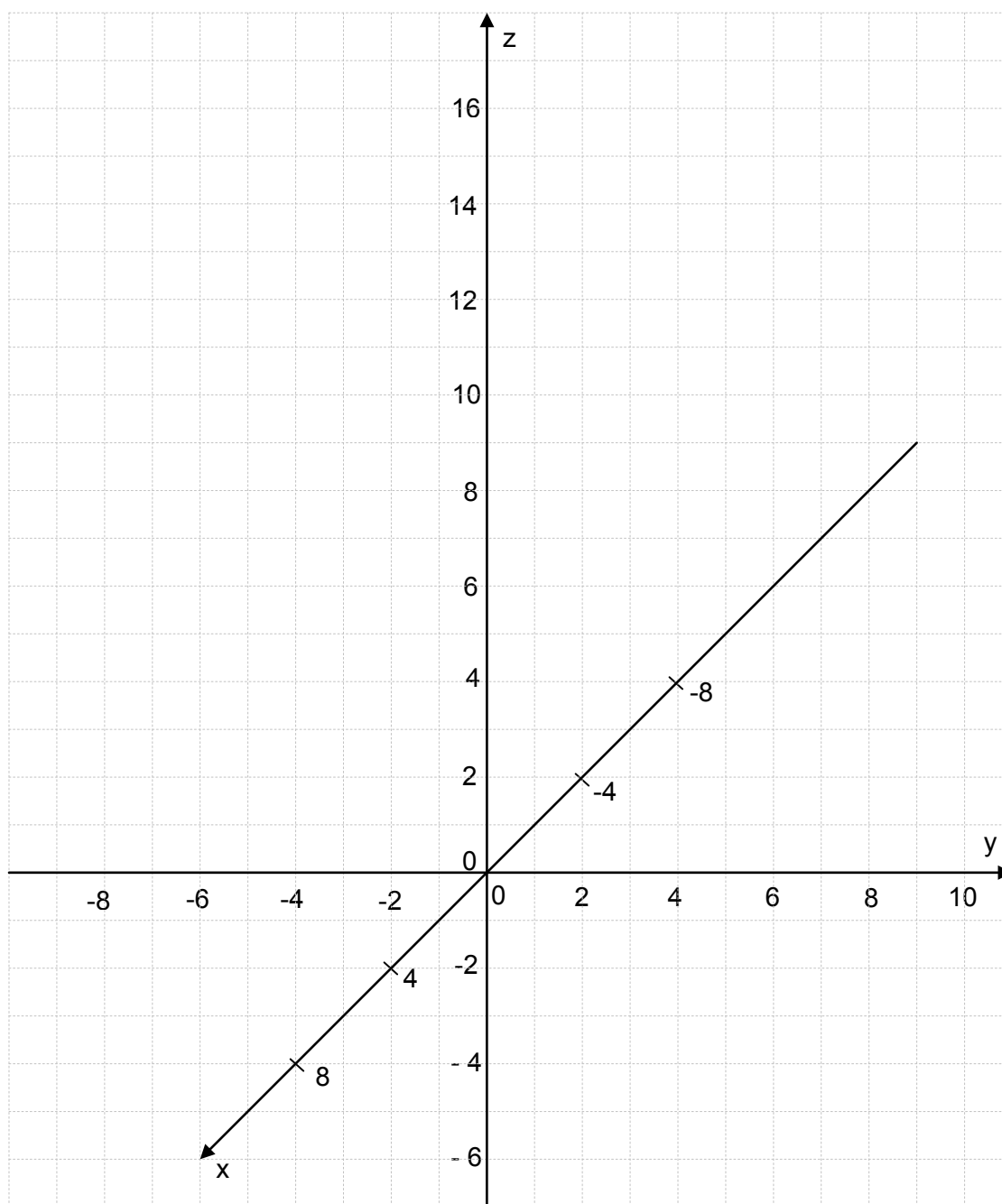
Zeigen Sie, dass die Kante BC in jeder Ebene der Schar $E_a : ax - z = 6a$ ($a \geq 0$) liegt.

- e) An der Turmspitze S ist ein Windrichtungsmesser angebracht, dessen Spitze W sich genau 0,7 m über S befindet. Eine Person (Augenhöhe 1,50 m) steht am Boden vor der Seitenfläche $BCGF$ des Turmes und kann die Spitze W gerade noch sehen.
Berechnen Sie den Abstand, in dem die Person vor der Seitenfläche steht.

Verteilung der Bewertungseinheiten (BE) auf die Aufgabenteile						
Aufgabenteil	a)	b)	c)	d)	e)	Summe
BE	8	11	5	2	4	30

Anlage

Anlage zu Aufgabe 2.2 a) Turm



Aufgabe 3.1: Sport in 3D

Die Fernsehsendung „Sport in 3D“ informiert über das aktuelle Sportgeschehen im neuen 3D-Format. Dabei treten Bildstörungen in 3D mit 4 % Wahrscheinlichkeit auf. Ist das Bild gestört, dann treten mit 60 % Wahrscheinlichkeit auch noch Tonstörungen auf. Ist das Bild einwandfrei, dann ist auch der Ton mit 90 % Wahrscheinlichkeit einwandfrei.

B und T seien die folgenden Ereignisse:

B: „In der 3D-Übertragung treten Bildstörungen auf“;

T: „In der 3D-Übertragung treten Tonstörungen auf“.

- a) Erstellen Sie ein vollständiges Baumdiagramm und untersuchen Sie, ob die Ereignisse B und T stochastisch unabhängig sind.
- b) Berechnen Sie die Wahrscheinlichkeit für ein einwandfreies Bild, falls der Ton gestört ist.
- c) Man betrachtet das Ereignis Z: „Ein Zuschauer wechselt den Sender“.
Falls keine Bildstörung auftritt, tritt Z höchstens mit der Wahrscheinlichkeit $\frac{1}{6}$ ein.
Im Falle einer Bildstörung wechselt der Zuschauer mit Sicherheit den Sender.
Berechnen Sie den maximalen Wert $P(Z)$.
- d) Im Studio ist ein Fußballtor aufgebaut, auf das Sportler und Studiogäste schießen dürfen. Ein Gast trifft mit der Wahrscheinlichkeit p in das Tor.
Berechnen Sie die Mindestgröße von p , damit der Studiogast bei 6 Versuchen mit einer Wahrscheinlichkeit von wenigstens 95 % mindestens einmal trifft.
- e) Der Sender benötigt zur richtigen Ausleuchtung des Studios, in dem die 3D-Aufnahmen erfolgen, 400 neue, einwandfreie Halogenlampen. Die Erfahrung lehrt, dass 2 % der gelieferten Lampen schadhaft sind.
Entwickeln Sie eine Ungleichung zur Bestimmung der Anzahl n der Lampen, die mindestens bestellt werden müssen, damit mit mindestens 99 % Wahrscheinlichkeit wenigstens 400 einwandfreie Lampen darunter sind.
Erläutern Sie, wie diese Ungleichung nach n aufgelöst werden kann, wenn man die Normalverteilung als Näherung wählt.

Verteilung der Bewertungseinheiten (BE) auf die Aufgabenteile						
Aufgabenteil	a)	b)	c)	d)	e)	Summe
BE	7	3	6	6	8	30

Anlage

Anlage zu Aufgabe 3. 1: Sport in 3D**Standardnormalverteilung**

Gerundet auf vier Nachkommastellen, weggelassen ist „0,“.

Bei negativen Werten liest man nach der Gleichung $\Phi(-z) = 1 - \Phi(z)$ ab.

z	0	1	2	3	4	5	6	7	8	9
0,0	5000	5040	5080	5120	5160	5199	5239	5279	5319	5359
0,1	5398	5438	5478	5517	5557	5596	5636	5675	5714	5753
0,2	5793	5832	5871	5910	5948	5987	6026	6064	6103	6141
0,3	6179	6217	6255	6293	6331	6368	6406	6443	6480	6517
0,4	6554	6591	6628	6664	6700	6736	6772	6808	6844	6879
0,5	6915	6950	6985	7019	7054	7088	7123	7157	7190	7224
0,6	7257	7291	7324	7357	7389	7422	7454	7486	7517	7549
0,7	7580	7611	7642	7673	7704	7734	7764	7794	7823	7852
0,8	7881	7910	7939	7967	7995	8023	8051	8078	8106	8133
0,9	8159	8186	8212	8238	8264	8289	8315	8340	8365	8389
1,0	8413	8438	8461	8485	8508	8531	8554	8577	8599	8621
1,1	8643	8665	8686	8708	8729	8749	8770	8790	8810	8830
1,2	8849	8869	8888	8907	8925	8944	8962	8980	8997	9015
1,3	9032	9049	9066	9082	9099	9115	9131	9147	9162	9177
1,4	9192	9207	9222	9236	9251	9265	9279	9292	9306	9319
1,5	9332	9345	9357	9370	9382	9394	9406	9418	9429	9441
1,6	9452	9463	9474	9484	9495	9505	9515	9525	9535	9545
1,7	9554	9564	9573	9582	9591	9599	9608	9616	9625	9633
1,8	9641	9649	9656	9664	9671	9678	9686	9693	9699	9706
1,9	9713	9719	9726	9732	9738	9744	9750	9756	9761	9767
2,0	9772	9778	9783	9788	9793	9798	9803	9808	9812	9817
2,1	9821	9826	9830	9834	9838	9842	9846	9850	9854	9857
2,2	9861	9864	9868	9871	9875	9878	9881	9884	9887	9890
2,3	9893	9896	9898	9901	9904	9906	9909	9911	9913	9916
2,4	9918	9920	9922	9925	9927	9929	9931	9932	9934	9936
2,5	9938	9940	9941	9943	9945	9946	9948	9949	9951	9952
2,6	9953	9955	9956	9957	9959	9960	9961	9962	9963	9964
2,7	9965	9966	9967	9968	9969	9970	9971	9972	9973	9974
2,8	9974	9975	9976	9977	9977	9978	9979	9979	9980	9981
2,9	9981	9982	9982	9983	9984	9984	9985	9985	9986	9986
3,0	9987	9987	9987	9988	9988	9989	9989	9989	9990	9990
3,1	9990	9991	9991	9991	9992	9992	9992	9992	9993	9993
3,2	9993	9993	9994	9994	9994	9994	9994	9995	9995	9995
3,3	9995	9995	9995	9996	9996	9996	9996	9996	9996	9997
3,4	9997	9997	9997	9997	9997	9997	9997	9997	9997	9998
3,5	9998	9998	9998	9998	9998	9998	9998	9998	9998	9998
3,6	9998	9998	9999	9999	9999	9999	9999	9999	9999	9999

Beispiele: $\Phi(2,37) = 0,9911$;

$\Phi(-2,37) = 1 - \Phi(2,37) = 1 - 0,9911 = 0,0089$;

$\Phi(z) = 0,7910 \Rightarrow z = 0,81$;

$\Phi(z) = 0,2090 = 1 - 0,7910 \Rightarrow z = -0,81$.

Aufgabe 3.2: Blutgruppen

Jeder Mensch hat eine der Blutgruppen A, B, AB oder 0 (null). Neben der Blutgruppenzugehörigkeit wird nach dem Vorhandensein eines Rhesusfaktors (Rh positiv: Rh^+ bzw. Rh negativ: Rh^-) unterschieden. Für Deutschland gilt folgende Häufigkeitsverteilung für Blutgruppen und zugehörige Rhesusfaktoren in % (Wikipedia 2010). Dabei bedeutet z.B. die Angabe $A Rh^-$ die Blutgruppe A mit negativem Rhesusfaktor, diese hat die Wahrscheinlichkeit $P(A Rh^-) = 0,06$.

Blutgruppe	A		B		AB		0	
Häufigkeit in %	43		11		5		41	
Rhesusfaktor	$A Rh^+$	$A Rh^-$	$B Rh^+$	$B Rh^-$	$AB Rh^+$	$AB Rh^-$	$0 Rh^+$	$0 Rh^-$
Häufigkeit in %	37	6	9	2	4	1	35	6

- a) Berechnen Sie die Wahrscheinlichkeiten der folgenden Ereignisse:
 - D: Unter 19 zufällig ausgewählten Bundesbürgern befindet sich mehr als eine Person, die die Blutgruppe B mit positivem Rhesusfaktor besitzt.
 - E: Unter 100 zufällig ausgewählten Bundesbürgern befinden sich mindestens sechs und weniger als zwölf Personen mit Blutgruppe AB.
- b) Bestimmen Sie die Wahrscheinlichkeit dafür, dass bei einem Blutspendetermin unter sechs zufällig ausgewählten Spendern
 - F: der erste Spender die Blutgruppe B, der dritte, vierte und sechste Spender die Blutgruppe A und die übrigen Spender die Blutgruppe AB oder 0 besitzen.
 - G: einer mit der Blutgruppe B, drei mit der Blutgruppe A und der Rest mit der Blutgruppe AB oder 0 sind.
- c) Die Wahrscheinlichkeit dafür, dass ein Bürger eines deutschen Bundeslandes Rh negativ (Rh^-) ist, sei p mit $0 < p < 1$. Berechnen Sie, wie groß p mindestens sein müsste, damit sich mit einer Wahrscheinlichkeit von wenigstens 80 % unter zehn zufällig ausgewählten Bürgern dieses Bundeslandes mindestens eine Person mit negativem Rhesusfaktor befindet.
- d) Auf der Grundlage langjähriger Erfahrungen vermuten die Mitarbeiter eines Blutspendezentrums, dass 3,9 % der Bundesbürger mit Blutgruppe 0 und 2,4 % der Bundesbürger mit anderen Blutgruppen Blutspender sind.
 Berechnen Sie, mit welcher Wahrscheinlichkeit ein zufällig ausgewählter Bundesbürger Blutspender ist.
 Ein Bundesbürger hat gerade Blut gespendet. Ermitteln Sie die Wahrscheinlichkeit dafür, dass er die Blutgruppe 0 besitzt.
- e) Nur 3 % der Bundesbürger im Alter von 18 bis 68 Jahren sind Blutspender.
 In einer repräsentativ ausgewählten Gruppe von 1500 Bundesbürgern wurde die Anzahl der Blutspender ermittelt. Ermitteln Sie, in welchem kleinstmöglichen zum Erwartungswert symmetrischen Intervall $I = [\mu - a; \mu + a]$ mit $a \in \mathbb{R}, a < \mu$, die Anzahl der Blutspender in dieser Gruppe mit einer Wahrscheinlichkeit von mindestens 90 % liegt.

Verteilung der Bewertungseinheiten (BE) auf die Aufgabenteile						
Aufgabenteil	a)	b)	c)	d)	e)	Summe
BE	8	7	4	7	4	30

Zwei Anlagen

Anlage 1 zu Aufgabe 3.2: Blutgruppen

Summierte Binomialverteilungen

Gerundet auf vier Nachkommastellen, weggelassen ist „0,“,
alle freien Plätze links unten enthalten 1,0000, rechts oben 0,0000.

Wird die Tabelle „von unten“ gelesen ($p > 0,5$), ist der richtige Wert $1 -$ (abgelesener Wert)

N	p		0,02	0,05	0,10	$\frac{1}{6}$	0,20	0,25	0,30	$\frac{1}{3}$	K
	k										
	0		1326	0059							99
	1		4033	0371	0003						98
	2		6767	1183	0019						97
	3		8590	2578	0078						96
	4		9492	4360	0237	0001					95
	5		9845	6160	0576	0004					94
	6		9959	7660	1172	0013	0001				93
	7		9991	8720	2061	0038	0003				92
	8		9998	9369	3209	0095	0009				91
	9		9999	9718	4513	0231	0023				90
	10			9885	5832	0427	0057	0001			89
	11			9957	7030	0777	0126	0004			88
	12			9985	8018	1297	0253	0010			87
	13			9995	8761	2000	0469	0025	0001		86
	14			9999	9274	2874	0804	0054	0002		85
	15				9601	3877	1285	0111	0004		84
	16				9794	4942	1923	0211	0010	0001	83
	17				9900	5994	2712	0376	0022	0002	82
	18	<			9954	6965	3621	0630	0045	0005	81
	19				9980	7803	4602	0995	0089	0011	80
	20				9992	8481	5595	1488	0165	0024	79
	21				9997	8998	6540	2114	0288	0048	78
	22				9999	9370	7389	2864	0479	0091	77
	23					9621	8109	3711	0755	0164	76
	24					9783	8686	4617	1136	0281	75
	25					9881	9125	5535	1631	0458	74
	26					9938	9442	6417	2244	0715	73
	27					9969	9658	7224	2964	1066	72
	28					9985	9800	7925	3768	1524	71
	29					9993	9888	8505	4623	2093	70
	30					9997	9939	8962	5491	2766	69
	31					9999	9969	9307	6331	3525	68
	32						9985	9554	7107	4344	67
	33						9993	9723	7793	5188	66
	34						9997	9836	8371	6019	65
	35						9999	9906	8839	6803	64
	36						9999	9948	9201	7511	63
	37							9973	9470	8123	62
	38							9986	9660	8630	61
	39							9993	9790	9034	60
	40							9997	9875	9341	59
	41							9999	9928	9566	58
	42								9960	9724	57
	43								9979	9831	56
	44								9989	9900	55
	45								9995	9943	54
	46								9997	9969	53
	47								9999	9983	52
	48								9999	9991	51
	49									9996	50
	50									9998	49
	51									9999	48
	52										47
n	k		0,95	0,90	$\frac{5}{6}$	0,80	0,75	0,70	$\frac{2}{3}$		k
											p

Anlage 2 zu Aufgabe 3.2: Blutgruppen**Standardnormalverteilung**

Gerundet auf vier Nachkommastellen, weggelassen ist „0,“.

Bei negativen Werten liest man nach der Gleichung $\Phi(-z) = 1 - \Phi(z)$ ab.

z	0	1	2	3	4	5	6	7	8	9
0,0	5000	5040	5080	5120	5160	5199	5239	5279	5319	5359
0,1	5398	5438	5478	5517	5557	5596	5636	5675	5714	5753
0,2	5793	5832	5871	5910	5948	5987	6026	6064	6103	6141
0,3	6179	6217	6255	6293	6331	6368	6406	6443	6480	6517
0,4	6554	6591	6628	6664	6700	6736	6772	6808	6844	6879
0,5	6915	6950	6985	7019	7054	7088	7123	7157	7190	7224
0,6	7257	7291	7324	7357	7389	7422	7454	7486	7517	7549
0,7	7580	7611	7642	7673	7704	7734	7764	7794	7823	7852
0,8	7881	7910	7939	7967	7995	8023	8051	8078	8106	8133
0,9	8159	8186	8212	8238	8264	8289	8315	8340	8365	8389
1,0	8413	8438	8461	8485	8508	8531	8554	8577	8599	8621
1,1	8643	8665	8686	8708	8729	8749	8770	8790	8810	8830
1,2	8849	8869	8888	8907	8925	8944	8962	8980	8997	9015
1,3	9032	9049	9066	9082	9099	9115	9131	9147	9162	9177
1,4	9192	9207	9222	9236	9251	9265	9279	9292	9306	9319
1,5	9332	9345	9357	9370	9382	9394	9406	9418	9429	9441
1,6	9452	9463	9474	9484	9495	9505	9515	9525	9535	9545
1,7	9554	9564	9573	9582	9591	9599	9608	9616	9625	9633
1,8	9641	9649	9656	9664	9671	9678	9686	9693	9699	9706
1,9	9713	9719	9726	9732	9738	9744	9750	9756	9761	9767
2,0	9772	9778	9783	9788	9793	9798	9803	9808	9812	9817
2,1	9821	9826	9830	9834	9838	9842	9846	9850	9854	9857
2,2	9861	9864	9868	9871	9875	9878	9881	9884	9887	9890
2,3	9893	9896	9898	9901	9904	9906	9909	9911	9913	9916
2,4	9918	9920	9922	9925	9927	9929	9931	9932	9934	9936
2,5	9938	9940	9941	9943	9945	9946	9948	9949	9951	9952
2,6	9953	9955	9956	9957	9959	9960	9961	9962	9963	9964
2,7	9965	9966	9967	9968	9969	9970	9971	9972	9973	9974
2,8	9974	9975	9976	9977	9977	9978	9979	9979	9980	9981
2,9	9981	9982	9982	9983	9984	9984	9985	9985	9986	9986
3,0	9987	9987	9987	9988	9988	9989	9989	9989	9990	9990
3,1	9990	9991	9991	9991	9992	9992	9992	9992	9993	9993
3,2	9993	9993	9994	9994	9994	9994	9994	9995	9995	9995
3,3	9995	9995	9995	9996	9996	9996	9996	9996	9996	9997
3,4	9997	9997	9997	9997	9997	9997	9997	9997	9997	9998
3,5	9998	9998	9998	9998	9998	9998	9998	9998	9998	9998
3,6	9998	9998	9999	9999	9999	9999	9999	9999	9999	9999

Beispiele: $\Phi(2,37) = 0,9911$;

$\Phi(-2,37) = 1 - \Phi(2,37) = 1 - 0,9911 = 0,0089$;

$\Phi(z) = 0,7910 \Rightarrow z = 0,81$;

$\Phi(z) = 0,2090 = 1 - 0,7910 \Rightarrow z = -0,81$.